

E.1 a) Să se rezolve programul întreg :

$$(P) \begin{cases} (\max) f = 2x_1 + x_2 \\ x_1 + x_2 \leq 5 \\ -x_1 + x_2 \leq 0 \\ 6x_1 + 2x_2 \leq 21 \\ x_1, x_2 \geq 0, \text{ intregi} \end{cases}$$

cu algoritmul Gomory

b) Să se exprime tăieturile generate cu ajutorul variabilelor originale  $x_1$  și  $x_2$  și să se vizualizeze efectul introducerii lor;

**Soluție:**

a) TEMA

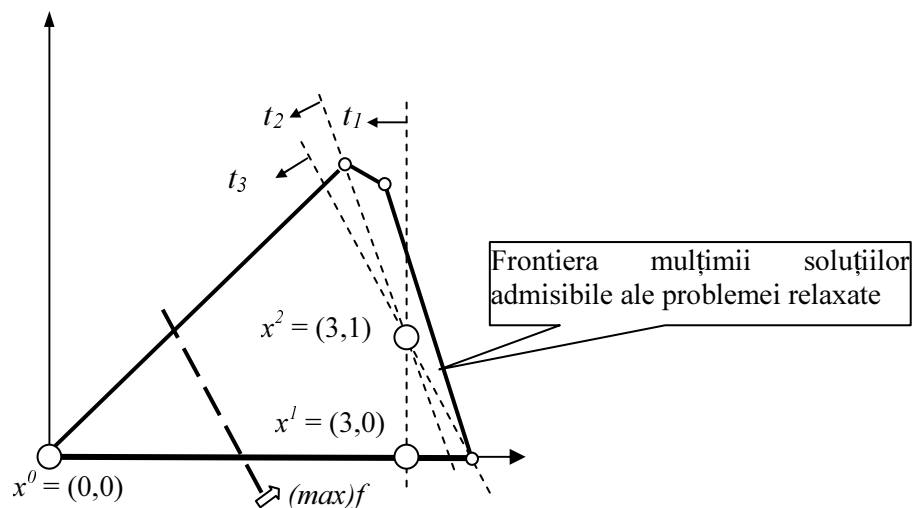
b) Tăieturile:

$$t_1 : x_1 \leq 3$$

$$t_2 : 3x_1 + x_2 \leq 10$$

$$t_3 : 2x_1 + x_2 \leq 7$$

Efectul introducerii succesive a celor trei restricții suplimentare este vizualizat în figura 6.1.



**Figura 6.1**

E.3 Să se rezolve programul întreg :

$$(P) \begin{cases} (\max) f = 10x_1 + 3x_2 \\ 6x_1 + 7x_2 \leq 40 \\ 3x_1 + x_2 \leq 11 \\ x_1, x_2 \geq 0, \text{ intregi} \end{cases}$$

a) cu algoritmul Gomory și b) grafic.

**Soluție:** b)

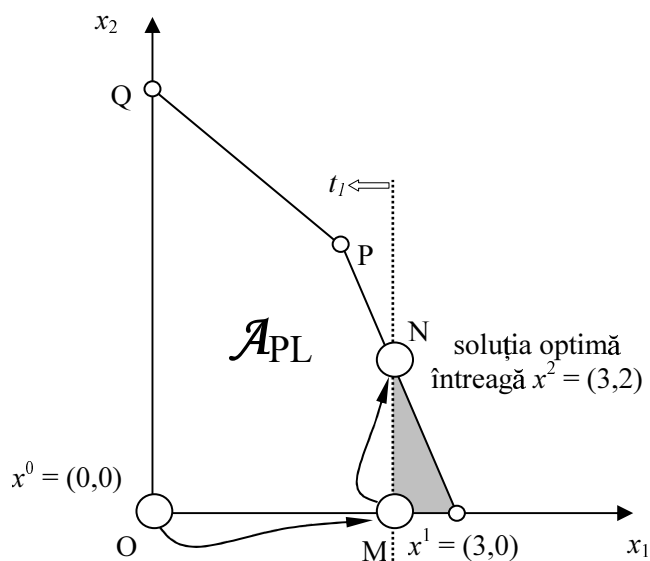


Figura 6.2

E.4 Să se rezolve cu ajutorul algoritmului Gomory programele întregi:

$$\begin{array}{l}
 a) \left\{ \begin{array}{l}
 (\max) f = 3x_1 + x_2 \\
 2x_1 + 3x_2 \leq 6 \\
 2x_1 - 3x_2 \leq 3 \\
 x_1, x_2 \geq 0 \text{ întregi}
 \end{array} \right.
 \end{array}
 \quad
 \begin{array}{l}
 b) \left\{ \begin{array}{l}
 (\max) f = x_1 + x_2 + x_3 \\
 -4x_1 + 5x_2 + 2x_3 \leq 4 \\
 -2x_1 + 5x_2 \leq 5 \\
 -3x_1 - 2x_2 + 2x_3 \leq 6 \\
 2x_1 - 5x_2 \leq 1 \\
 x_1, x_2, x_3 \geq 0 \text{ întregi}
 \end{array} \right.
 \end{array}$$

E.6 Un program întreg este rezolvat cu algoritmul Gomory. La o anumită iterație restricția generatoare a fost:

$$x_6 - \frac{31}{7}x_1 + \frac{17}{7}x_2 - \frac{2}{7}x_3 + \frac{1}{7}x_4 + 2x_5 = \frac{44}{7}$$

Derivați tăietura corespunzătoare.

**Soluție:**

• Punem în evidență părțile întregi și cele fracționare ale coeficienților restricției generatoare:

$$x_6 + \left(-5 + \frac{4}{7}\right)x_1 + \left(2 + \frac{3}{7}\right)x_2 + \left(-1 + \frac{5}{7}\right)x_3 + \left(0 + \frac{1}{7}\right)x_4 + 2x_5 = 6 + \frac{2}{7}$$

• Rescriem ultima relație în forma:

$$\frac{4}{7}x_1 + \frac{3}{7}x_2 + \frac{5}{7}x_3 + \frac{1}{7}x_4 - \frac{2}{7} = 6 - x_6 + 5x_1 - 2x_2 + x_3 - 2x_5$$

• Tăietura căutată are expresia:

$$\frac{4}{7}x_1 + \frac{3}{7}x_2 + \frac{5}{7}x_3 + \frac{1}{7}x_4 - \frac{2}{7} \geq 0 \Leftrightarrow \frac{4}{7}x_1 + \frac{3}{7}x_2 + \frac{5}{7}x_3 + \frac{1}{7}x_4 \geq \frac{2}{7}$$

După introducerea unei variabile de abatere  $y$ , tăietura, devenită egalitate, se adaugă la programul liniar curent sub forma:

$$-\frac{4}{7}x_1 - \frac{3}{7}x_2 - \frac{5}{7}x_3 - \frac{1}{7}x_4 + y = -\frac{2}{7}$$

și în continuare se aplică algoritmul simplex dual.

**E.7** a) Să se determine soluția optimă a programului întreg:

$$(P) \begin{cases} (\max) f = x_1 + x_2 \\ 4x_1 - 3x_2 \geq 4 \\ 2x_1 + 5x_2 \leq 10 \\ 4x_1 - x_2 \leq 10 \\ x_1, x_2 \geq 0 \text{ întregi} \end{cases}$$

utilizând algoritmul de tip dual B (algoritmul ciclic al lui Gomory);

b) Să se arate că inegalitatea  $t_2 : \frac{1}{5}x_4 + \frac{3}{5}x_6 \geq \frac{1}{5}$  obținută în iterația 2 este o tăietură;

c) Să se exprime tăieturile generate în funcție de variabilele originale  $x_1, x_2$  și să se vizualizeze efectul introducerii lor.

**Soluție:**

a) Notăm cu (P) și forma standard a programului dat:

$$(P) \begin{cases} (\max) f = x_1 + x_2 \\ 4x_1 - 3x_2 - x_3 = 4 \\ 2x_1 + 5x_2 + x_4 = 10 \\ 4x_1 - x_2 + x_5 = 10 \\ x_j \geq 0 \text{ întregi } j=1, \dots, 5 \end{cases}$$

Rezolvând relaxata (PL) cu algoritmul simplex obținem soluția optimă fracționară:

$$x_1 = \frac{30}{11} = 2\frac{8}{11}, x_2 = \frac{10}{11} \quad (\max) f = \frac{40}{11} = 3\frac{7}{11}$$

Din acest moment începe aplicarea propriu zisă a algoritmului Gomory. Ca restricție generatoare se va alege prima ecuație cu termen liber neîntreg din forma secundară curentă. Continuați aplicarea algoritmului.

b) Probăm mai întâi că orice soluție admisibilă întregă a problemei (P) verifică inegalitatea  $t_2$ . Să presupunem prin absurd că ar exista o soluție  $\bar{x} = (\bar{x}_1, \dots, \bar{x}_5)$  care nu satisface  $t_2$ . Am avea atunci:

$$\frac{1}{5}\bar{x} + \frac{3}{5}\bar{x} < \frac{1}{5} \Leftrightarrow \frac{1}{5} - \frac{1}{5}\bar{x} - \frac{3}{5}\bar{x} > 0 \text{ cu } \bar{x}_6 = -\frac{8}{11} + \frac{1}{22}\bar{x}_4 + \frac{5}{22}\bar{x}_5 = 2 - \bar{x}_1 = \text{număr întreg!}$$

Din modul în care s-a dedus tăietura  $t_2$  rezultă relația:

$$\frac{1}{5} - \frac{1}{5}\bar{x}_4 - \frac{3}{5}\bar{x}_6 = 1 - \bar{x} + \bar{x}_6 = \text{număr întreg}$$

astfel că, de fapt:  $\frac{1}{5} - \frac{1}{5}\bar{x}_4 - \frac{3}{5}\bar{x}_6 \geq 1$ ! Ar rezulta că:  $\frac{1}{5}\bar{x}_4 + \frac{3}{5}\bar{x}_6 \leq -\frac{4}{5} < 0$ . Ultima inegalitate este falsă deoarece membrul stâng este nenegativ!

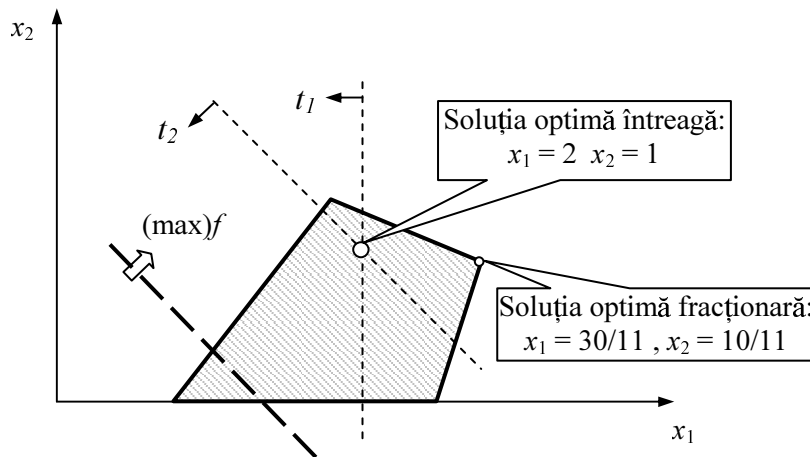
c) Din (P) extragem expresiile variabilelor de abatere  $x_4$  și  $x_5$  în funcție de variabilele originale  $x_1$  și  $x_2$ :

$$x_4 = 10 - 2x_1 - 5x_2 \quad x_5 = 10 - 4x_1 + x_2$$

pe care le introducem în tăietura  $t_1$ . Obținem inegalitatea echivalentă:  $t_1 : x_1 \leq 2$ .

Din forma standard a tăieturii  $t_1$  rezultă:  $\bar{x}_6 = -\frac{8}{11} + \frac{1}{22}x_4 + \frac{5}{22}x_5 = 2 - x_1$ . Înlocuind  $x_4$  și  $x_6$  în  $t_2$  se găsește expresia echivalentă:  $x_1 + x_2 \leq 3$ . Efectul introducerii acestor tăieturi este vizualizat în figura 6.3.

*Observație:* Soluția optimă întregă este situată în interiorul mulțimii  $\mathcal{A}_{PL}$ .



**Figura 6.3**

**E.8** Să se rezolve programul întreg:

$$(P) \begin{cases} (\max) f = 10x_1 + 19x_2 \\ 2x_1 + 3x_2 \leq 11 \\ x_1 + 5x_2 \leq 14 \\ 2x_1 + x_2 \leq 9 \\ x_1 \geq 0, x_2 \geq 0 \text{ intregi} \end{cases}$$

utilizând algoritmul de tip dual Gomory.

**Soluție:**  $x_1 = 4, x_2 = 1, f(x) = 59$

*Observație:* Soluția optimă întregă se află pe frontiera mulțimii  $\mathcal{A}_{PL}$  a soluțiilor admisibile ale problemei relaxate (PL) (vezi soluția grafică).